

Interrogation Fiche 11 : les inégalités sociales TES 1h30

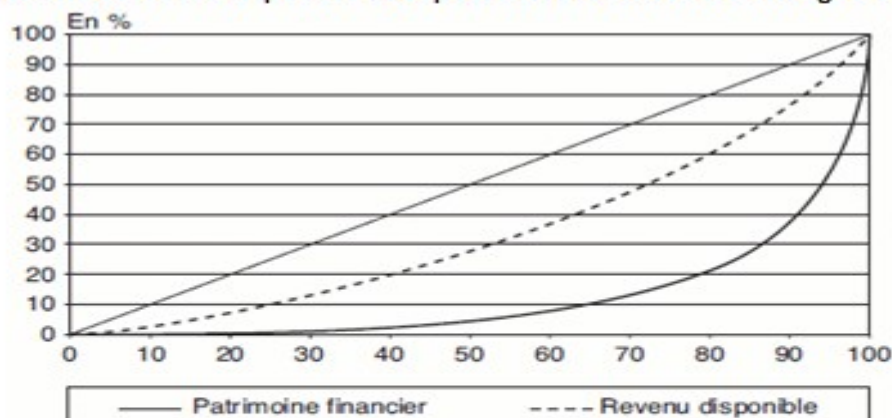
Mobilisations de connaissances 8 pts

En vous appuyant sur un exemple de votre choix, vous montrerez le caractère cumulatif des inégalités économiques et sociales.

Etude de documents : 6pts

Vous présenterez le document puis vous caractériserez les inégalités qu'il met en évidence.

Concentration du revenu disponible et du patrimoine financier des ménages en France



Champ : ménages dont la personne de référence n'est pas étudiante et dont le revenu déclaré est positif ou nul.

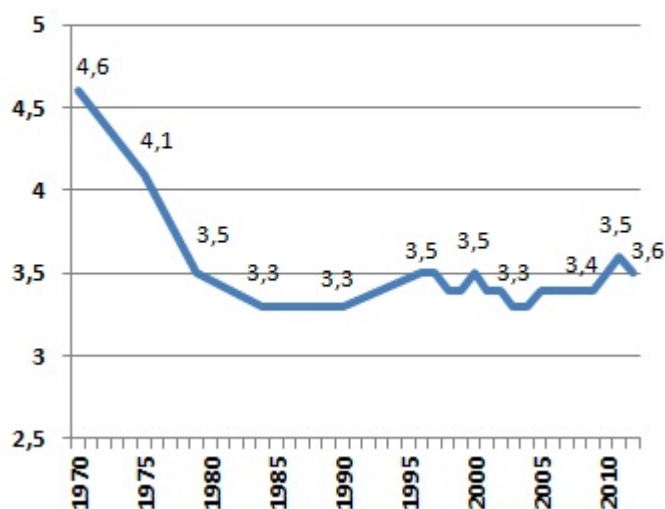
Les données sont des pourcentages cumulés. L'axe des abscisses correspond aux ménages et l'axe des ordonnées aux parts de revenu ou de patrimoine.

Sources : « La prise en compte des revenus du patrimoine dans la mesure des inégalités », BACLET Alexandre et RAYNAUD Emilie, *Economie et statistique*, 2008.

Vous présenterez le document et caractériserez l'évolution des inégalités de niveau de vie en France 6pts

Rapport entre le niveau de vie min. des 10 % les plus riches et max. des 10 % les plus pauvres

Source : Insee



Interrogation Fiche 11 : les inégalités sociales TES 1H30

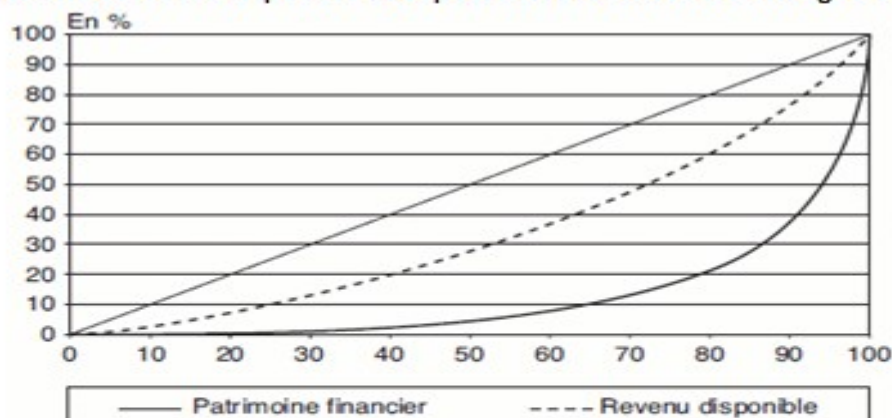
Mobilisations de connaissances 8 pts

En vous appuyant sur un exemple de votre choix, vous montrerez le caractère cumulatif des inégalités économiques et sociales.

Etude de documents : 6pts

Vous présenterez le document puis vous caractériserez les inégalités qu'il met en évidence.

Concentration du revenu disponible et du patrimoine financier des ménages en France



Champ : ménages dont la personne de référence n'est pas étudiante et dont le revenu déclaré est positif ou nul.

Les données sont des pourcentages cumulés. L'axe des abscisses correspond aux ménages et l'axe des ordonnées aux parts de revenu ou de patrimoine.

Sources : « La prise en compte des revenus du patrimoine dans la mesure des inégalités », BACLET Alexandre et RAYNAUD Emilie, *Economie et statistique*, 2008.

Après avoir présenté le document, vous montrerez quels types d'inégalité il met en évidence.

Document

Distribution du revenu salarial annuel en 2009 en euros courants

	femmes	hommes	Écart relatif des revenus salariaux des femmes par rapport aux hommes (en %)
Décile 1	1990	2930	-32
Décile 2	5830	8520	-32
Décile 3	9790	14030	-30
Décile 4	13260	16660	-20
Décile 5 ou médiane	15640	18870	-17
Décile 6	17790	21330	-17
Décile 7	20340	24490	-17
Décile 8	23850	29390	-19
Décile 9	29780	39020	-24
D9/D1	15	13,3	

Champ : France métropolitaine, ensemble des salariés

Sources : Insee, DADS et fichiers de paie des agents de l'État, exploitation au 1/12